

一、請寫出「」內正確的國字(每題1分,共5分)

- 1 (獎) 她國小求學時,得到的第一張「 」狀,保存得完整如初。
- 2 (餓) 飢「 」的小狗大口大口的吞下肉塊。《105年》
- 3 (歲) 「 」月的流逝令人傷感,所以要及時把握當下。
- 4 (坦) 這條路很平「 」好走。
- 5 (旺) 小草有「 」盛的生命力。

二、請寫出「」內正確的注音(每題1分,共5分)

- 1 (你) 你要小心的扶著奶奶,別讓她「絆」倒了。
- 2 (遠) 遠方冉冉升起了山「嵐」。
- 3 (夜) 夜空的星星像閃「爍」的鑽石,十分美麗。
- 4 (奶) 奶奶和左鄰右「舍」的感情很好。《103年》
- 5 (蟬) 蟬聲唧唧,為夏天「揭」開序幕。

三、字音字形字義辨別(每題2分,共30分)

- 1 (2) 以下哪個語詞正確?(1)散不(2)麻雀(3)麻目(4)麻最。
- 2 (2) 老師用各種方法「 」勵我們用功讀書。(1)基(2)激(3)機(4)績。
- 3 (3) 請找出正確的詞語。(1)必業(2)剛琴(3)豪宅(4)煩腦。
- 4 (3) 下列「」的讀音,何者與其他不同?(1)「喝」茶(2)吃「喝」玩樂(3)「喝」采(4)「喝」飲料。
- 5 (1) 下列哪一組語詞都是第三聲?(1)雨傘(2)游泳(3)簡單(4)美國。
- 6 (4) 下面那一個「樂」字讀音和其他三個不同?
(1)「樂」曲 (2)「樂」器 (3)音「樂」 (4)快「樂」。
- 7 (1) 老師設計的「寶遊戲非常有趣,讓我們玩得意猶未盡。
(1)尋(2)看(3)找(4)捉。
- 8 (3) 時間充「 」。正確寫法是(1)欲(2)域(3)裕(4)遇。
- 9 (4) 縣長「走訪」鄉鎮,想了解縣民的需求。(1)走路很快(2)到處走動,停不下來(3)走路去拜訪朋友(4)親自探訪、訪查。
- 10 (3) 做事細心的人希望每件事都能做得「 」美。(1)頑(2)玩(3)完(4)莞。《104年》
- 11 (2) 束「縛」的讀音和下面何者相同?(1)副(2)服(3)府(4)夫。
- 12 (4) 說話要有根據,因為「眼說瞎話,最後會引來更多麻煩。
(1)爭 (2)蒸 (3)箏 (4)暱。
- 13 (3) 「明白」的意思是(1)白色(2)明亮(3)清楚(4)明天。

14 (2) 「節衣縮食」的解釋是(1)胃口很小(2)生活節儉(3)精挑細選(4)喜歡穿很少。

15 (2) 「分辨」和下列哪個詞語的意思相近呢? (1)分離(2)辨別(3)分開(4)辦理。《104年》

四、語詞選擇(每題2分,共40分)

- 1 (3) 你喜歡這個娃娃, 就送你吧!(1)既然:就是(2)只要:就能(3)既然:那麼(4)就連:還是。
- 2 (4) 我們要學習獨立自主,不要什麼事情都 家人的幫忙。
(1)依序(2)要賴(3)依法(4)倚賴。
- 3 (4) 颱風來襲的夜晚 ,住在山裡的居民都不敢入睡。(1)風調雨順(2)風中傳奇(3)風雨生信心(4)風雨交加。
- 4 (4) 老師努力的說明,我還是不懂。
(1)當然(2)沒有(3)應該(4)雖然。
- 5 (3) 祝新人 ,永浴愛河。(1)生意興隆 (2)國運昌隆(3)百年好合 (4)大吉大利。《105年》
- 6 (2) 下課鐘聲一響,他便 到操場運動。
(1)五彩繽紛(2)呼朋引伴(3)離鄉背井(4)緣木求魚。
- 7 (4) 姐姐的外套 弟弟弄髒了。(1)從(2)要(3)把(4)被。
- 8 (4) 「媽媽 我們出門要注意安全」。下列哪個語詞不適合?(1)叮嚀(2)囑咐(3)叮囑(4)遺囑。
- 9 (2) 隔壁的王爺爺雖然上了 ,身體還是很健康。
(1)年級 (2)年紀 (3)年代 (4)年月。
- 10 (1) 他的收藏品 ,簡直是無奇不有。(1)五花八門(2)十全十美(3)三心二意(4)一清二楚。《105年》
- 11 (2) 我早上急著出門而沒吃早餐, 現在全身無力。
(1)因為(2)所以(3)最後(4)可能)。
- 12 (1) 歹徒經過多年逃亡終於落網,證明 。
(1)法網恢恢(2)老當益壯(3)鑽牛角尖(4)興高采烈。
- 13 (4) 你來到這裡,一定要嚐嚐這裡的名產。
(1)可是(2)也許(3)可能(4)如果。
- 14 (2) 每天,媽媽有忙不完的家事,難怪手都 了。
(1)長斑 (2)長繭 (3)長痣 (4)長瘡。
- 15 (1) 老師傳授有效率的讀書 。(1)祕訣(2)抉擇(3)決定(4)選擇。
- 16 (2) 「他答應別人的話,經常做不到,可說是 」。何者四字語詞不正確?(1)食言而肥(2)一言九鼎(3)言而無信(4)毫無信用。
- 17 (3) 春天櫻花盛開, 許多遊客上山賞櫻。
(1)導遊 (2)吸收 (3)吸引 (4)引用。

一、選擇題(每題 2 分，共 50 分)

- (4) 1. 5 個千、1 個百、6 個十和 8 個一合起來是多少？(1)8615(2)1586(3)6518(4)5168
- (2) 2. 有一圓的半徑是 10 公分，此圓的圓周長是多少公分？(圓周率 3.14)
- (1)31.4(2)62.8(3)100(4)314
- (1) 3. 計算 $\frac{3}{4} \times \frac{2}{3} \times \frac{1}{2}$ 的答案是：
- (1) $\frac{1}{4}$ (2) $\frac{1}{3}$ (3) $\frac{1}{2}$ (4) 1
- (3) 4. 將 1 平分 100 份，每一份是多少？
- (1) $\frac{1}{10}$ (2) 0.1 (3) $\frac{1}{100}$ (4) 0.001 《103 年》
- (1) 5. 下列哪一個是 3 : 8 的比值？
- (1) $\frac{3}{8}$ (2) $\frac{8}{3}$ (3) 24 (4) $\frac{3}{11}$
- (3) 6. 邊長 10 公分的正方形面積是幾平方公分？(1)10 平方公分(2)40 平方公分(3)100 平方公分(4)400 平方公分
- (1) 7. 一條彩帶 45 公分，要平分 6 小段，請問每小段長幾公分？(1)7.5 公分(2)8 公分(3)8.5 公分(4)9.5 公分 《103 年》
- (3) 8. 在 27 的倍數中，最接近 200 的是哪一個數？(1)216(2)202(3)189(4)199
- (4) 9. 大於 90 度且小於 180 度的角稱作？
- (1) 平角 (2) 銳角 (3) 直角 (4) 鈍角
- (3) 10. 23 個 0.01 合起來是多少？
- (1) 0.023 (2) 2.3 (3) 0.23 (4) 23
- (1) 11. 下面哪一種圖形有 4 個直角？
- (1) 正方形 (2) 梯形 (3) 菱形 (4) 平行四邊形
- (2) 12. 只有一雙對邊互相平行的是哪一種四邊形？(1) 正方形 (2) 梯形 (3) 菱形 (4) 平行四邊形
- (2) 13. 原子筆 1 打 144 元，自動筆 4 枝 116 元，自動筆 1 枝比原子筆 1 枝貴多少元？
- (1) 16 元 (2) 17 元 (3) 18 元 (4) 19 元

- (2) 14. 科學百科一套 15 冊，共重 12 公斤，平均一冊重幾公斤？

- (1) 0.6 公斤 (2) 0.8 公斤
(3) 1.2 公斤 (4) 1.25 公斤

- (1) 15. 一顆蘋果重 $\frac{5}{8}$ 公斤，一本筆記本重 $\frac{1}{2}$ 公

斤，一個馬克杯重 $\frac{9}{16}$ 公斤，哪一個最

重？

- (1) 蘋果 (2) 筆記本
(3) 馬克杯 (4) 都一樣重

- (1) 16. 一吋大約是 2.54 公分，爸爸的褲子腰圍是 34 吋，大約是多少公分？

- (1) 86.36 公分 (2) 86.63 公分
(3) 83.36 公分 (4) 83.63 公分

- (3) 17. 下面哪個數是偶數？

- (1) 3547 (2) 4235 (3) 7542 (4) 6381

- (1) 18. 打六折就是按照定價的 (1) 60% (2) 16% (3) 6% (4) 66% 來出售。

- (4) 19. 下列哪一個數不是 36 的因數？

- (1) 3 (2) 6 (3) 12 (4) 16。

- (3) 20. 0.57943 中，9 的位名是什麼？(1) 十分位(2) 百分位(3) 千分位(4) 萬分位。

- (3) 21. 有一個正方體的邊長是 6 公分，其表面積是多少平方公分？(1) 96 平方公分(2) 36 平方公分(3) 216 平方公分(4) 60 平方公分。

- (2) 36 平方公分(3) 216 平方公分(4) 60 平方公分。

- (1) 22. 將 8 個都是 1 立方公分的小積木疊在一起，體積是 (1) 8 立方公分(2) 12 立方公分(3) 18 立方公分(4) 20 立方公分。

- (2) 23. 在算式「126-25×3」中，要先算

- (1) 126-25 (2) 25×3 (3) 126×3 (4) 126+25。

- (3) 24. 一天有 24 小時，4 天又 5 小時總共是多少小時？(1) 96 小時(2) 105 小

時(3)101 小時(4) 107 小時。

(3) 25. 81579 用四捨五入法取概數到百位的結果是多少？ (1)81500 (2)81580

(3)81600 (4)81680。

二、計算題(每題 3 分，共 30 分)

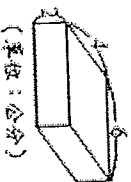
(1) $65 \times 34 + 35 \times 34$

答：3400

(2) $99 + 199 + 299$

答：597

(3)算出右圖的體積



答：48 立方公分

(4) $27 \times 0.6 = 16.2$

(5)24 分 36 秒 $\div 4 = (6)$ 分(9)秒

(6) $265 - (45 - 15) + 38 = 273$

(7) $810 \div 54$

15

(8) $\frac{15}{17} - \frac{13}{17}$

$\frac{2}{17}$

(9) $0.54 + 2.1 \div 3$

1.24

(10)7 時 23 分 - 4 時 54 分

2 時 29 分

三、應用題(每題 5 分，共 20 分)

1. 台北和高雄兩地相距 380 公里，開車以平均每小時 95 公里的速度，從台北到高雄需要花多少小時？

答：4 小時

2. 這次評量成績分別是國語 90 分、數學 95 分、社會 82 分、自然與生活科技 85 分，4 科的平均分數是多少？ 答：88 分

3. 甲商店 3 公斤芒果賣 84 元，乙商店 5 公斤芒果賣 120 元，哪一家商店的芒果比較貴？

答：甲商店

4. 1 包貼紙有 30 張，弟弟有 3 包多 5 張，弟弟共有幾張貼紙？

$30 \times 3 = 90$

$90 + 5 = 95$

答：95 張

彌

封

線

一、是非題 (每題 2 分，共計 40 分)

- (○) 1. 臺灣面積雖然小，但具備山地、丘陵、平原、盆地、台地等各種地形。
- (○) 2. 在開會中，有提案要表決時，對事的表決順序是先提議先表決。
- (×) 3. 我國憲法中的平等權強調「法律之前，人人平等」，所以公司的員工可以要求薪水和老闆一樣多。
- (×) 4. 台灣目前無法加入聯合國，主要是受到美國的阻撓。
- (○) 5. 臺灣夏季酷熱容易引起中暑，造成戶外工作的不便；而冬季有寒流來時，低溫易造成農、漁作物的損失。
- (×) 6. 使用煤和石油發電雖然會產生二氧化碳，但是對整體地球環境影響不大。
- (○) 7. 居住在都市地區，可以就近有學校、醫院、銀行、各種行政機關的服務，然而也易有車多人雜喧擾的缺點。
- (○) 8. 農地一旦遭受重金屬汙染，只能廢耕，不能再栽種作物。
- (×) 9. 臺灣的礦產開發多在東部，資源豐富，大多都可以出口。
- (○) 10. 在民主國家裡，立法機關所制定的法律，是政府與人民都要遵守的規範。
- (×) 11. 買到過期的食品，我們可以根據著作權法來維護自身的權利。
- (○) 12. 網路線上購物方便又快速，但仍須留意賣家的身分與信用，以及是否會洩漏個人隱私等問題。
- (○) 13. 臺灣有許多「紅毛港」、「紅毛城」等以「紅毛」命名的地方或建築，「紅毛」是指來自歐洲的荷蘭人和西班牙人。
- (×) 14. 國際之間恐怖攻擊事件仍然層出不窮，為了避免類似的事件再度發生，應該使用更強大的武力來反擊嚇阻這些行為。
- (○) 15. 醫療技術的提升，延長現代人的壽命，所以老年人口會逐漸增加。
- (○) 16. 憲法規定，人民有依法納稅的義務。
- (×) 17. 位於臺灣北部的長濱文化，是目前臺灣所發現最古老的史前文化。
- (○) 18. 四大古文明都是發源於大河流域。
- (○) 19. 當國際原油的價格發生變動時，台灣的民生用品價格也會受到影響。

- (×) 20. 古埃及人興建的金字塔乃是法老日常生活所居住的房子。

二、選擇題 (每題 2 分，共計 40 分)

- (4) 1. 下列對於減緩全球暖化的措施，何者正確？
- (1) 盡量搭乘大眾交通工具
(2) 減少二氧化碳等廢氣
(3) 工廠做好廢氣排放處理
(4) 以上皆是。
- (3) 2. 若發生消費爭議或糾紛時，可撥打消費者保護專線號碼是？
- (1) 165 (2) 113 (3) 1950 (4) 110。
- (4) 3. 工廠廢水如果直接排入農田，可能會有什麼後果？
- (1) 稻米受到汙染
(2) 汙染田地
(3) 食用後影響人體健康
(4) 以上皆是。
- (2) 4. 臺灣的丘陵地區排水良好，適合種植何種作物？
- (1) 甘蔗 (2) 茶樹
(3) 向日葵 (4) 稻米。
- (4) 5. 發生地震時，我們可以怎麼做，以維護自身的安全？
- (1) 到戶外空曠的地方躲避
(2) 在室內時，應躲在堅固的牆角，並保護好頭部
(3) 態度要從容鎮定
(4) 以上皆是。
- (3) 6. 奧林匹克運動會起源於古希臘，是國際上最主要的綜合型體育賽事，每幾年舉辦一次？
- (1) 2 年 (2) 3 年 (3) 4 年 (4) 5 年。
- (1) 7. 從家鄉居民從事的產業可以看出家鄉經濟活動發展的情形，在都市地區，人們從事的行業以何者居多？
- (1) 服務業 (2) 農業
(3) 畜牧業 (4) 漁業。
- (4) 8. 一般我們所說的一世紀是代表多少年？
- (1) 30 年 (2) 50 年 (3) 60 年 (4) 100 年。
(共二頁之第一頁)

- (3) 9. 申辦信用卡，有許多好處，但是會有什麼缺點？(1)不必帶很多硬幣和鈔票出門 (2)要先付款才能刷卡 (3)保管不慎會被盜刷 (4)已刷卡購物就不能辦理退貨。
- (4) 10. 我國新臺幣等流通貨幣是由下列哪一單位發行？
 (1)外交部 (2)總統府
 (3)臺灣銀行 (4)中央銀行。
- (1) 11. 下列哪一種使用科技產品情形，政府會依法開罰？
 (1)邊開車邊拿手機通話
 (2)玩網路遊戲
 (3)網路購物
 (4)上網找尋資料。
- (2) 12. 馬爾地夫面臨國土被淹沒的威脅，最主要的原因是？
 (1)空氣汙染 (2)氣候暖化
 (3)水資源汙染 (4)人口過多。
- (2) 13. 在臺灣我們會划龍舟、吃粽子的是在什麼節日？
 (1)元宵節 (2)端午節
 (3)中秋節 (4)除夕。
- (3) 14. 發現鄰居有家暴事件時，我們可以依據什麼法律來報警處理？
 (1)教育基本法
 (2)消費者保護法
 (3)家庭暴力防治法
 (4)國家賠償法。
- (4) 15. 下列何者是 e 世代生活所造成的不良影響？
 (1)失去與真實世界的連結
 (2)易沉迷網路世界
 (3)忽視人際關係
 (4)以上皆是。
- (3) 16. 阿偉已經年滿六歲，他的父母在接到區公所寄來的國小入學通知單後，仍堅持不讓他去學校就讀。請問：這違反了憲法中哪一項人民的基本義務？
 (1)納稅 (2)服兵役
 (3)受國民教育 (4)擔任公職
- (1) 17. 下列哪一個人改良蒸汽機，促進了工業革命？
 (1)瓦特
 (2)萊特
 (3)貝爾
 (4)愛迪生。

(1) 18. 南投縣位於臺灣本島中央，擁有美麗的自然景觀與原住民族文化，因此適合發展哪一種產業？

- (1)觀光業 (2)資訊業
 (3)漁業 (4)化學工業。

(2) 19. 近年來，哪一種消費方式讓在家購物成為消費者的另一種選擇？

- (1)傳統商店轉型
 (2)網路購物興起
 (3)連鎖便利商店增加
 (4)手工產品受到重視。

(1) 20. 世界上大部分的宗教都有什麼樣的特性？

- (1)教人行善助人
 (2)對社會有負面教育意義
 (3)鼓勵人們逃避責任
 (4)以上皆是。

三、配合題 (每格 2 分，共計 20 分)

(一)將正確的行政機構代號填入括弧()中

| | |
|----------|--------|
| ㄅ. 警察局 | ㄆ. 圖書館 |
| ㄇ. 衛生所 | ㄇ. 清潔隊 |
| ㄏ. 戶政事務所 | |

(ㄇ) 1. 為學童接種疫苗

(ㄏ) 2. 辦理結婚登記

(ㄇ) 3. 清運垃圾

(ㄅ) 4. 維護治安、打擊犯罪

(ㄆ) 5. 查詢資料、借閱書籍

(二)有關臺灣國家公園的特色，請找出正確的答案填入下方()中。

| |
|------------|
| ㄅ. 陽明山國家公園 |
| ㄆ. 大魯閣國家公園 |
| ㄇ. 墾丁國家公園 |
| ㄇ. 金門國家公園 |
| ㄏ. 玉山國家公園 |

1. 國家公園內有火山的是(ㄅ)。

2. 我國第一座國家公園，園區內有美麗的珊瑚景觀的是(ㄇ)。

3. 國家公園內有臺灣第一高峰的是(ㄏ)。

4. 位於臺灣東部，擁有峽谷景觀的是(ㄆ)。

5. 位於離島，擁有史蹟和文化景觀的是(ㄇ)。
 (共二頁之第二頁)

准考證號碼： _____ 姓名： _____

.....彌.....封.....線.....

一、是非題(每題2分，共40分)

- (X) 1. 插花時常利用的百合和玫瑰，這兩種植物的葉脈都是平行脈。
- (O) 2. 水筆仔以筆狀胎生苗的特殊方式繁殖，是臺灣珍貴的自然資源。
- (O) 3. 壁虎遇到危險時會自動斷尾，利用會動的斷尾分散敵人的注意，藉機逃生。《105年》
- (O) 4. 當臺灣進入「梅雨季節」時，天氣特徵主要是陰雨連綿的天氣。
- (X) 5. 添加防腐劑、以糖或食鹽醃漬食品、真空包裝或乾燥處理，這些方法都是停止微生物的生長，可以永久保存食物，不會腐壞。
- (O) 6. 如果今天晚上看見的月形是滿月，表示大約三十天後也可以看到滿月。
- (X) 7. 騎上變速腳踏車，踩踏板的速度不變，將後輪上的齒輪調到越大的時候，前進速度也越快。
- (O) 8. 一般常見的紅色液柱式氣溫計，是利用液體熱脹冷縮的原理所製成的。
- (X) 9. 水由高處往低處流，會沖刷地表面的泥土和砂石，這是指流水的「堆積作用」。
- (X) 10. 電腦不使用時，只要關掉開關，不用拔掉插頭，是較省電的方法。
- (O) 11. 地表長時間受到河流的侵蝕、搬運和堆積等作用，會形成不同的地形景觀。
- (O) 12. 迴紋針可以用來製作電路中簡易開關，因為它是電的導體。
- (X) 13. 昆蟲的一生，有的會經過卵、幼蟲、蛹、成蟲四個階段，稱為不完全變態。
- (X) 14. 土壤下因為陽光照射不到，所以沒有動物生活。
- (O) 15. 自來水供應系統中，通常會將水塔設在高處，才能將水送到住處較高者的家中。
- (X) 16. 當兩根長條形磁鐵的 S 極互靠近時，會互相吸引。
- (O) 17. 把裝有水的 U 形水管右端提很高時，此時水可能會從左端噴出來。
- (O) 18. 一天中，旗竿影子最短的時刻是在中午12點。
- (O) 19. 農業用的農藥或化學肥料如果過量使用，可能會經由排水溝汙染河川，甚至造成河川生物死亡。
- (O) 20. 將籃球架的籃框和支架塗上油漆，是為了要達到防鏽的目的。

二、選擇題(每題2分，共40分)

- (3) 1. 下列哪種運輸工具使用的能源是綠色能源？(1) 捷運(2) 火車(3) 帆船(4) 汽車。
- (4) 2. 下列哪一種動物不是屬於昆蟲類？(1) 蜜蜂(2) 獨角仙(3) 蝗蟲(4) 蜘蛛。
- (1) 3. 臺灣主要的電力供應方式是下列何者？(1) 火力發電(2) 核能發電(3) 水力發電(4) 風力發電。
- (4) 4. 我們平常泡的紅茶，是利用植物的哪一個部位？(1) 根(2) 花(3) 果實(4) 葉。
- (2) 5. 想讓固態的巧克力變成液態，可以如何處理？(1) 放入冰箱冷藏(2) 隔水加熱(3) 加鹽(4) 用紙包住放冷凍庫。
- (3) 6. 用手電筒照射鉛筆盒的正前方，在鉛筆盒的哪一個位置會出現影子？(1) 左後方(2) 右後方(3) 正後方(4) 正前方。
- (3) 7. 使用下列哪一項能源最不會產生汙染？(1) 煤炭(2) 石油(3) 太陽能(4) 核能。
- (4) 8. 聲音必須藉由物質來傳遞聲音，下面哪一項無法傳遞聲音？(1) 氣體(2) 液體(3) 固

體 (4) 真空。

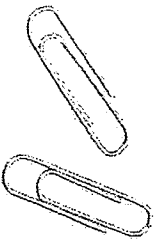


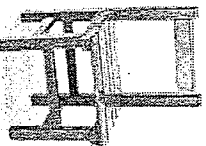

- (3) 9. 在杯子底部塞紙團，再倒過來垂直壓入裝水的水箱底部，會發現紙團沒有溼，這證明了什麼？(1) 空氣是無色無味的 (2) 空氣可以被擠壓 (3) 空氣占有空間 (4) 空氣有重量。
- (3) 10. 校園中有許多味道芬芳的花朵，它的香氣是為了什麼？(1) 嚇跑小動物 (2) 告訴我們它有毒 (3) 吸引昆蟲傳播花粉 (4) 完全沒有意義。
- (1) 11. 我們平時就該做好防颱措施，下面哪一項是錯誤的？(1) 買電動玩具 (2) 準備日常用品 (3) 保持水溝流暢 (4) 減少山坡地的開墾。
- (2) 12. 下列哪一個物品的應用和水的浮力有關？(1) 泳帽 (2) 救生圈 (3) 耳塞 (4) 蛙鏡。
- (2) 13. 天燈是利用下列哪一個現象設計的？(1) 熱空氣下沉 (2) 熱空氣上升 (3) 冷空氣上升 (4) 冷空氣會飄浮在熱空氣上面。
- (1) 14. 關於臺灣的自然環境，下列哪一項說明不正確？(1) 地形多沙漠、丘陵 (2) 四面環海 (3) 礦物與能源資源有限 (4) 擁有豐富的海洋資源。
- (2) 15. 水產生三態變化的主要原因是什麼？(1) 容器形狀改變 (2) 溫度產生變化 (3) 地點改變 (4) 時間的變化。
- (2) 16. 腳最多的動物是哪一種呢？(1) 白鸞 (2) 蜘蛛 (3) 螞蟻 (4) 花豹。
- (1) 17. 哪一種方法在在操作螺絲起子轉動螺絲時能夠更省力？(1) 握把加粗 (2) 加長金屬部分 (3) 握把加長 (4) 使用具磁性的起子。
- (1) 18. 油輪在海上觸礁擱淺，大量油料外洩到海水中，會對海洋生物造成什麼影響？(1) 導致海洋生物生病或死亡 (2) 海洋生物會更健康 (3) 外洩油料區會聚集大量海洋生物 (4) 海洋生物的繁殖力更強。
- (3) 19. 到海邊玩水，衣服被海水弄溼，經過一段時間後，衣服上會有白色顆粒，這種白色顆粒可能是什麼物質？(1) 糖 (2) 味精 (3) 鹽 (4) 硼酸。
- (4) 20. 黴菌在哪一種環境中，較容易生長？(1) 二氧化碳濃度高的地方 (2) 空氣稀薄的地方 (3) 低溫乾燥的地方 (4) 溫暖潮溼的地方。

三、配合題 (每答2分，共20分)

1. 下列有關天氣的敘述哪些正確呢？請在 () 裡打○，錯誤的打X：

- (X) (1) 只要有水庫就不會缺水。
 (○) (2) 下大雨可能造成土石流。
 (○) (3) 氣溫太高時，容易中暑。
 (○) (4) 氣溫太低，可能造成生物被凍死。
 (○) (5) 雨量太少時候，可能會發生旱災。

2. 下列哪些物品可以被磁鐵吸引？請在 () 中打○，不可以的打X：

| | | | | |
|---|---|--|---|---|
| (1) 迴紋針(○) | (2) 鋁罐(X) | (3) 鐵釘(○) | (4) 木椅(X) | (5) 錢幣(X) |
|  |  |  |  |  |